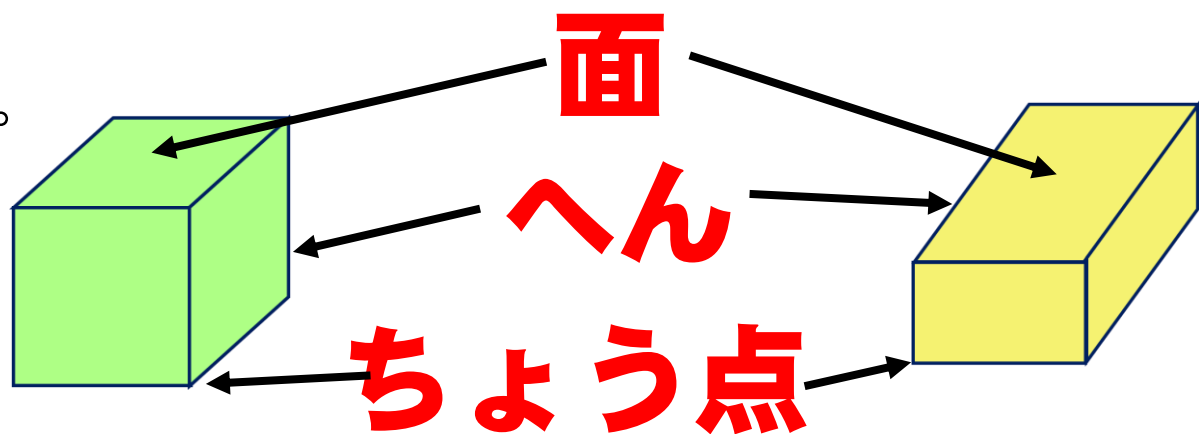


# はこの形についてしらべよう。

みのまわりにはいろいろな形のはこがあります。  
今回は、2つのはこについてくわしくしらべていきましょう。

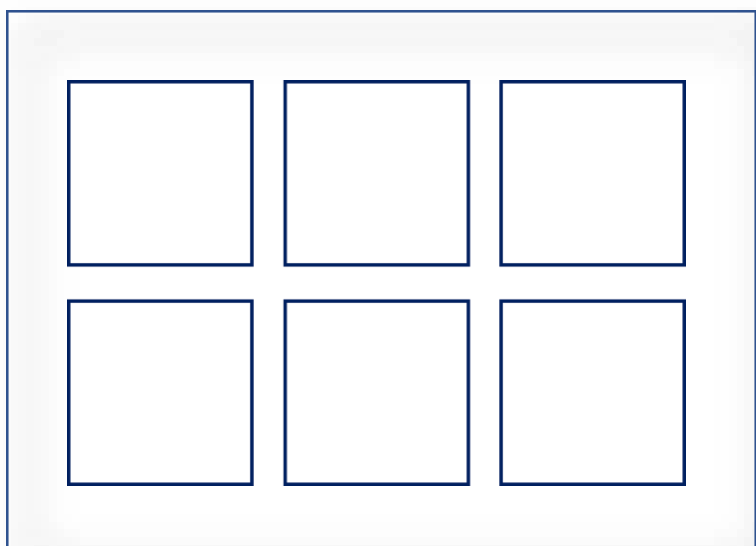
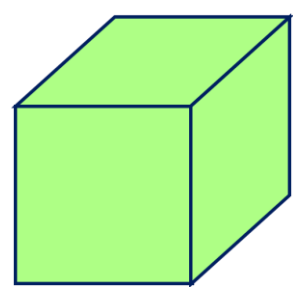


こっちはサイコロのような形のはこだよ。

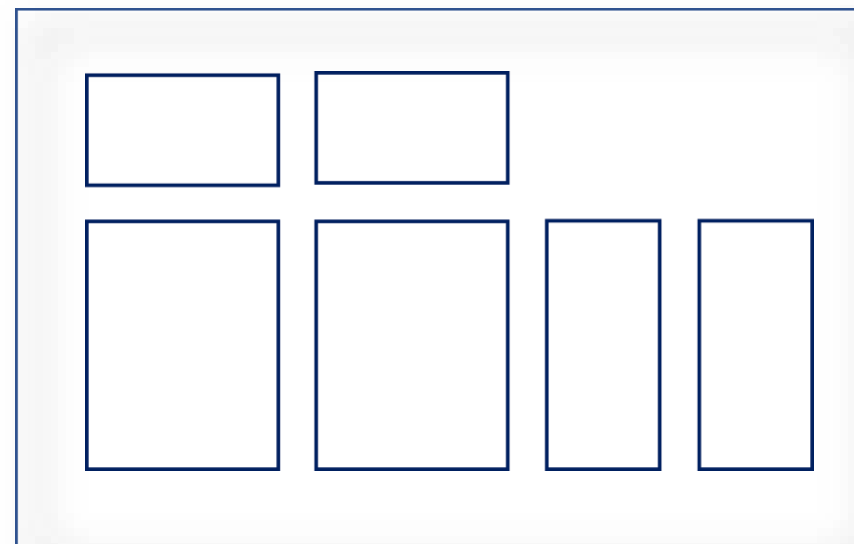
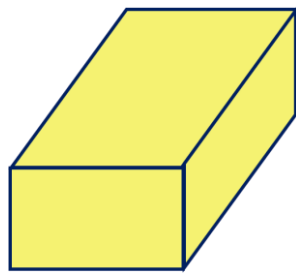


## 面についてしらべました。

面を紙にうつしました。

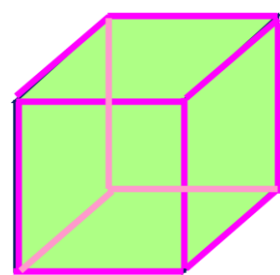


面の数・・・6  
面の形・・・正方形



面の数・・・6  
面の形・・・長方形

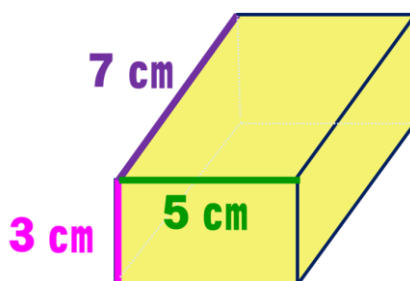
## へんについてしらべました。



へんの数・・・1 2  
ぜんぶ同じ長さ



見えないところにもあるよ。



3 cmのへん・・・4

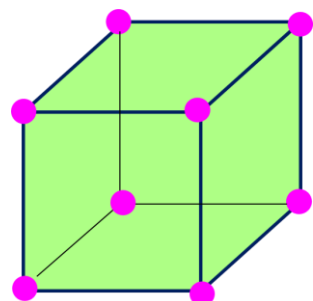
5 cmのへん・・・4

7 cmのへん・・・4

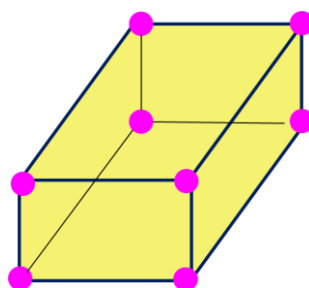
だから

へんの数・・・1 2

## ちょう点についてしらべました。



ちょう点の数・・・8



ちょう点の数・・・8



形のちがうはこだけど、同じところはあるかな？

どちらのはこも

**面の数・・・6    へんの数・・・1 2    ちょう点の数・・・8**